

小学校3年生 *単元確認テスト⑮*			ものの重さを調べよう
組	番	名前	/10点

1 重さをはかるはかりがあります。

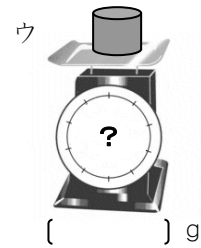



(1) はかりの正しいつかい方について、①～④の()にあてはまることばや数を からえらび、書きましょう。(1点×4)

0 ななめ 何もしかない 1 しずかに
いきおいよく しょうめん正面 紙をのせる

- ① はかりの皿の上に()。
- ② はりが()をさしているか、たしかめる。
- ③ はかりたいものを()のせる。
- ④ 目もりを()から読む。

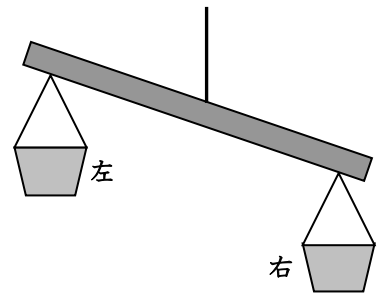


(2) 300gの丸いねんどを、ア、イ、ウのように形をかえて重さをはかりました。それぞれ何gでしょう。(1点×3)



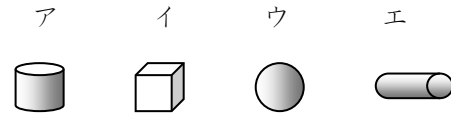
2 少しかたむいたてんびん(重さをくらべる道具:重い方が下がる)があります。

(1) 左右どちらかの入れ物にテープや紙などをはり、かたむかないようにしたい。右と左のどちらの入れ物にはればよいでしょう。(1点)

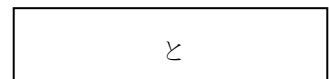


(2) ア～エの4つのものがあります。てんびんをつかって、2つの重さをくらべたら、 のことがわかりました。(1点×2)

・アとイでは、アのほうが重かった。
・アとウでは、ウのほうが重かった。
・アとエでは、アのほうが重かった。



① 重さの順番をきめるためには、あと、どれとどれの重さをくらべればよいでしょう。



② ア、イ、ウ、エで、いちばん重いものはどれでしょう。

